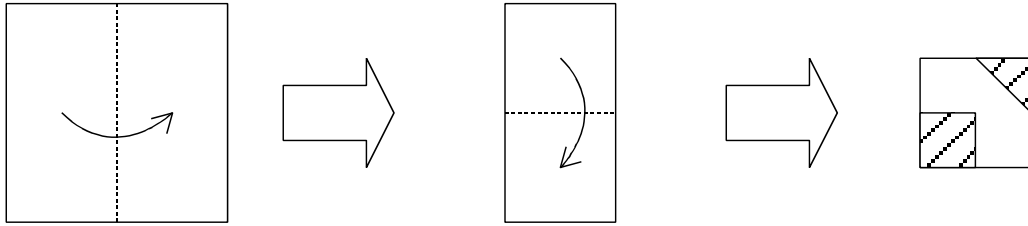



紙おり①

正方形の紙を図のように点線を折り目にして折りました。この紙から斜線の部分を切り落として残った部分を広げると、どのような図形になりますか。頭の中で考えて、答えのところに切り落とした部分を斜線で書き入れなさい。なお、紙を折ったり作図をして考えてはいけません。



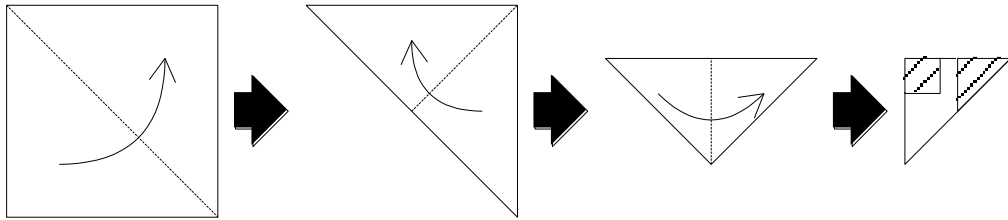
答え




[制限時間 1分]

紙おり②

正方形の紙を、図のように点線を折り目にして折りました。この紙から斜線の部分を切り落として、残った部分を広げると、どのような図形になりますか。頭の中で考えて、答えのところに切り落とした部分を斜線にしてかき入れなさい。なお、紙を折ったり、作図をして考えてはいけません。



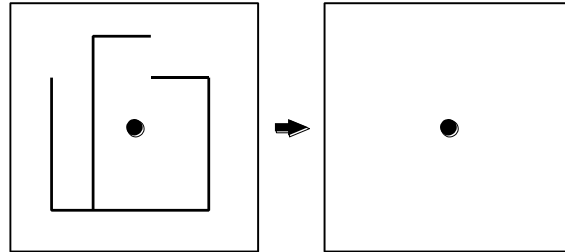
答え



[制限時間 1分]

回転

次の記号や図形を、図の中の ● を中心にして固定し、180 度回転させた形を頭の中で考えてかきなさい。作図をしたり回転させて考えるはいけません。



上級 [制限時間 30 秒]

最上級 [制限時間 10 秒]