

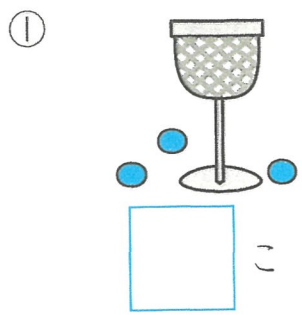


5 たまを 6こ なげて たまいれを しました。かごに ^{はい} 入った かずを かきましょう。 1つ4 [12てん]



6 □に あてはまる かずを かきましょう。 1つ5 [25てん]

① 2より 1 大きい かずは □ です。



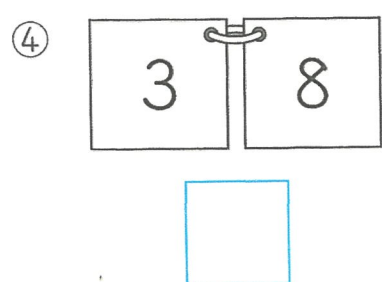



② 8より 2 大きい かずは □ です。

③ 4より 4 大きい かずは □ です。

④ 7より 1 ^{ちい}小さい かずは □ です。

⑤ 9より 5 小さい かずは □ です。

7 つぎの 2つの かずで、大きい ほうの かずは、小さい ほうの かずより いくつ 大きいですか。 1つ5 [30てん]



あつまりと かず

ハイレベル


もくひょうじかん
20 ぶん

べんきょうした 日
月 日

とくてん
てん

1 えを ^み見て、こたえましょう。

1つ7 [42てん]



① つぎの なかまの かずを すうじて かきましょう。

ア うさぎの かず () ひき

イ ^{あお}青い かえるの かず () ひき

ウ かっぱを きて いる どうぶつの かず () ひき

エ ^{みず}水の ^{なか}中に いる 青い かえるの かず () ひき

② で かこんだ なかまは どんな なかまですか。いちばん ^{ただ}正しい なかまの いいかたを、^{した}下から 1つ えらんで、ア、イ、ウで こたえましょう。

ア くまの なかま

イ かさを さして いる なかま

ウ かさを さして いる くまの なかま ()

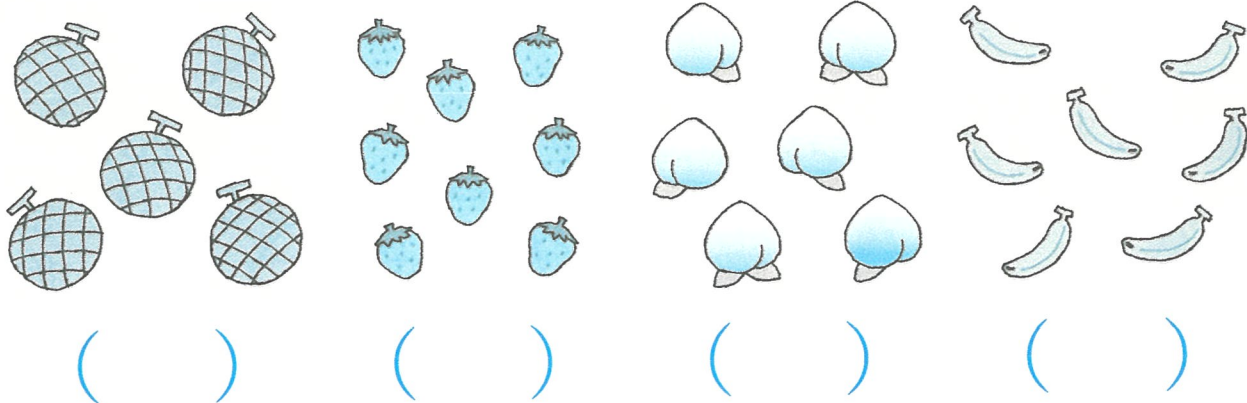
③ で かこんだ なかまは どんな なかまですか。つぎの () に あてはまる ことばを かきましょう。(両方できて7)

() の ^{うえ}上に いる () い かえるの なかま

2

2ばんめに おおい ものに ○を つけましょう。


[10てん]



3

えを 見て、 つぎの かずを すうじて こたえましょう。

1つ8 [48てん]



- ① ○の ^{なか}中に いる ^こ子どもの かず ()^{にん}人
- ② ○の 中に いる 子どもの かず ()人
- ③ ○の そとに いる ^{おんな}女の子の かず ()人
- ④ ○の そとに いる ^{おとこ}男の子の かず ()人
- ⑤ ○の 中に いて、 ○の 中にも いる 子どもの かず ()人
- ⑥ ○の 中に いて、 ○の そとに いる 女の子の かず ()人

1 えを ^み見て、ことばで こたえましょう。

1つ8 [16てん]



① で かこんだ なかまは、どんな なかまですか。

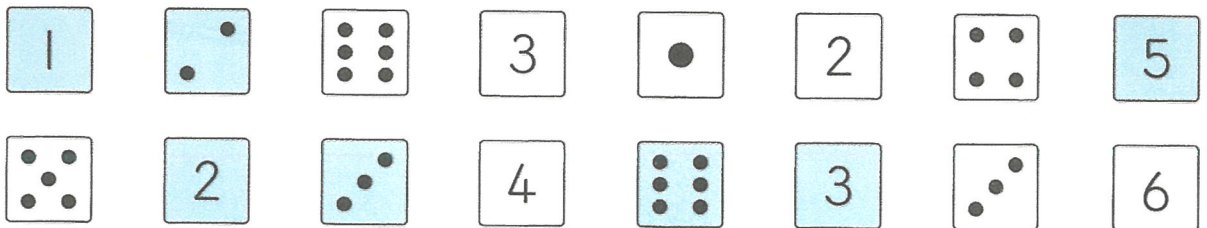
()

② で かこんだ なかまは、どんな なかまですか。

()

2 ^{した}下は、すうじと ●の さいころです。つぎの さいころの かず
を こたえましょう。

1つ7 [35てん]



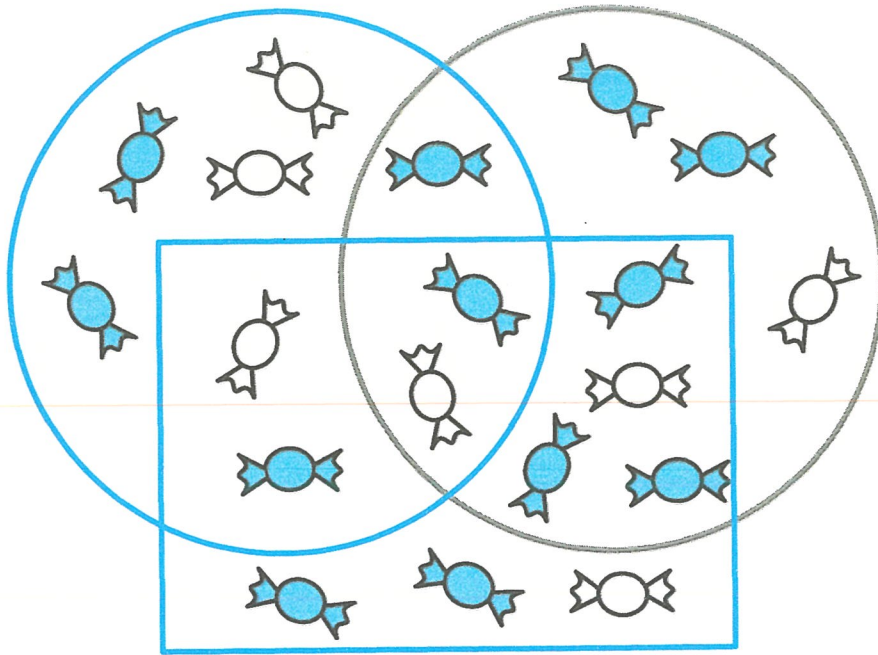
① ^{あお}青い さいころの かず () に

② すうじの さいころの かず () に

③ 「いち」が ^て出て いる さいころの かず () に

④ 「ろく」が 出て いる ^{しろ}白い さいころの かず () に

⑤ 「に」, 「さん」, 「ご」が 出て いる 青い さいころの ぜんぶ
の かず () に



- ① ○の ^{なか} 中にある あめの かず () に
- ② □の中にある 青い あめの かず () に
- ③ ○の中にある、○の中にも ある あめの かず () に
- ④ ○の中にある、□の中にも ある 青い あめの かず () に
- ⑤ ○の中にも ○の中にも □の中にも ある あめの かず () に
- ⑥ ○の中にある、□の そとにある あめの かず () に
- ⑦ □の中にある、○の中にも あり、○の そとにある 青い あめの かず () に