

# 10までの かず


ハイレベル

もくひょうじかん  
20 ぶん

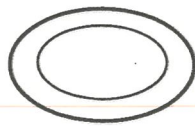
べんきょうした 日  
月 日

とくてん  
てん


**1** 5人は くりを 8こずつ もらいました。下の えで、へって いる かずは たべた かずです。 1つ4 [20てん]



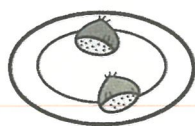
えりか




さとし



ともみ



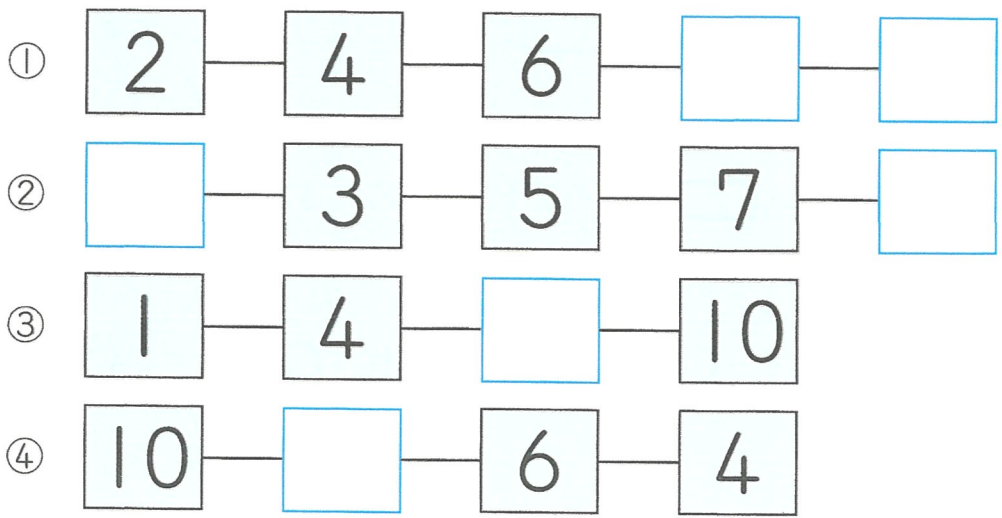
かずや



みさき

- ① いちばん おおく たべた 人は だれですか。 ( )
- ② 1こも たべなかった 人は だれですか。 ( )
- ③ みさきさんより おおく たべた 人は、なん人 いますか。 ( )人
- ④ 2ばんめに おおく たべた 人は、なんこ たべましたか。 ( )こ
- ⑤ 3ばんめに おおく のこした 人は、なんこ たべましたか。 ( )こ

**2** □に あてはまる かずを かきましよう。 □1つ4 [24てん]



3

□にあてはまる かずをかきましょう。

1つ4 [28てん]

- ① 3より 2 <sup>おお</sup>大きい かずは □ です。
- ② 10より 2 <sup>ちい</sup>小さい かずは □ です。
- ③ 4より 1 大きい かずより 3 小さい かずは □ です。
- ④ 1より 3 大きい かずより 2 大きい かずは □ です。
- ⑤ 9より 2 小さい かずより 4 小さい かずは □ です。
- ⑥ 5より 3 大きい かずより 7 小さい かずは □ です。
- ⑦ 4より 2 小さい かずより 5 大きい かずは □ です。

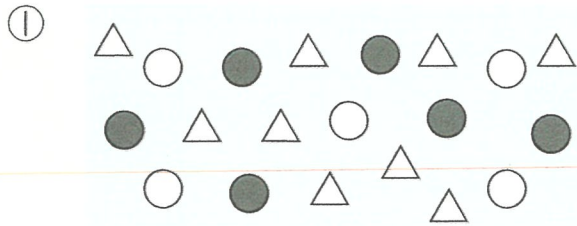
4

㊦と ㊧の かずで、大きい ほうに ○をつけましょう。

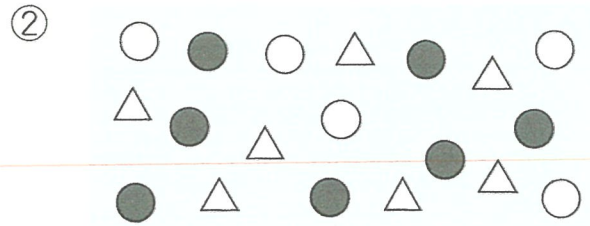
1つ7 [28てん]

- ① { ㊦ ( ) 2より 4 大きい かず  
       ㊧ ( ) 7より 2 小さい かず
- ② { ㊦ ( ) 1より 2 大きい かずより 2 大きい かず  
       ㊧ ( ) 5より 2 小さい かずより 4 大きい かず
- ③ { ㊦ ( ) 8より 4 小さい かずより 6 大きい かず  
       ㊧ ( ) 4より 3 大きい かずより 2 大きい かず
- ④ { ㊦ ( ) 9より 7 小さい かずより 4 大きい かず  
       ㊧ ( ) 10より 6 小さい かずより 3 大きい かず

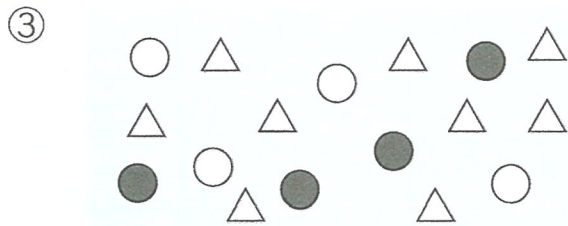
1 下の どれも, ○が 5こ, ●が 7こ, △が 9こに なるよう  
に します。あと どれが なんこ あれば よいですか。1くみ3 [18てん]



( ) が  こ

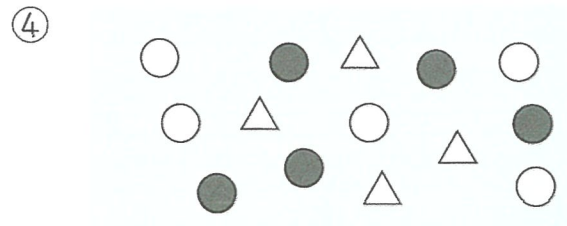


( ) が  こ



( ) が  こ

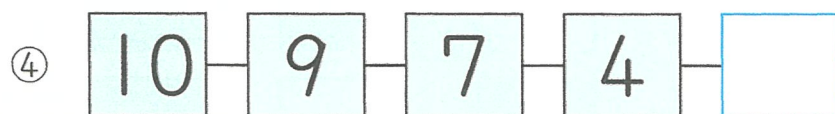
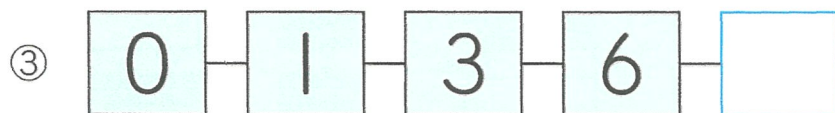
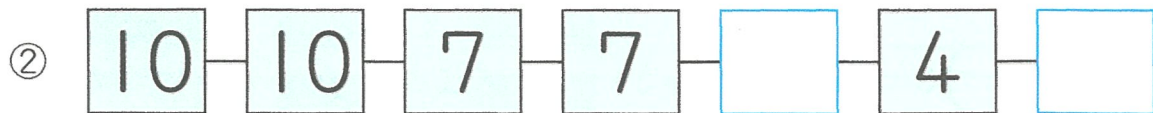

( ) が  こ



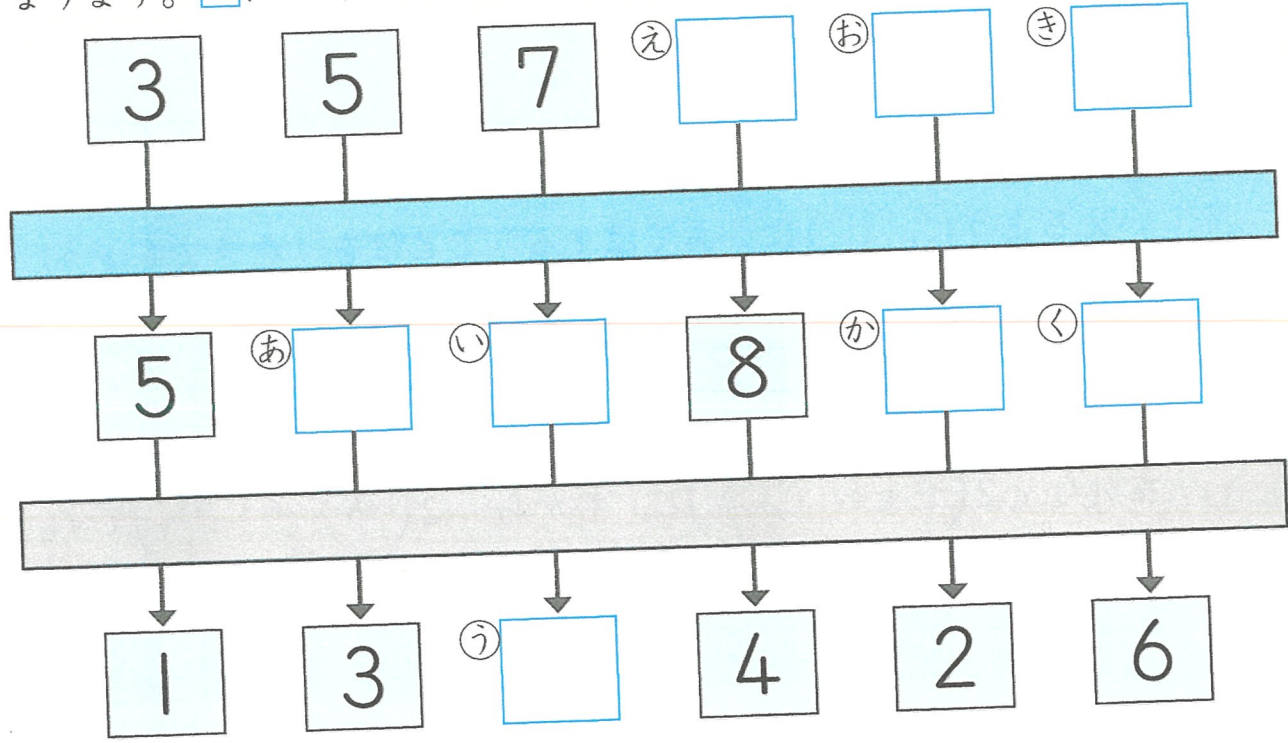
( ) が  こ

( ) が  こ

2  に あてはまる かずを かきましょう。  1つ4 [20てん]



3 をとおると、とおったかずより2ずつ大きくおおなり、  
をとおると、とおったかずよりきまったかずだけちい小さく  
 なります。にあてはまるかずをかきましょう。1つ4 [32てん]



4 にあてはまるかずをかきましょう。 1つ5 [30てん]

- ① より3大きいかずは9です。
- ② 7より 小さいかずは2です。
- ③ 9より2小さいかずは、より3大きいかずとおなじです。
- ④ より4大きいかずより3大きいかずは10です。
- ⑤ 10より 小さいかずより4小さいかずは4です。
- ⑥ 6より3大きいかずより 小さいかずは、2より5大きいかずより4小さいかずとおなじです。